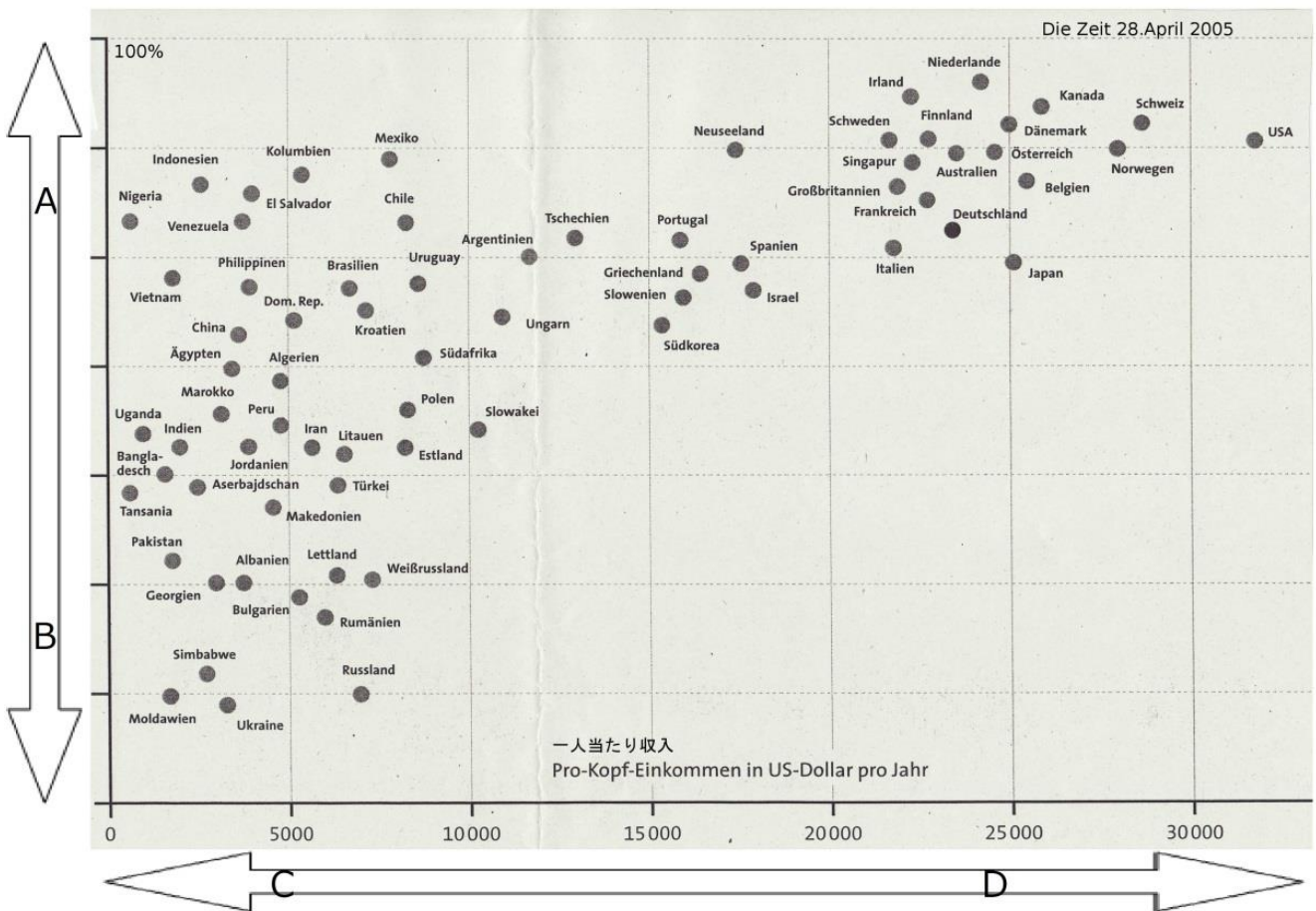


Aufgabe 1

Was zeigt diese Grafik? Was ist der Titel der Grafik?

- ✓ Die x-Achse (横軸) zeigt, ...
- ✓ Die y-Achse (縦軸) zeigt, ...

Titel:



Aufgabe 2

Welche Wörter passen?

A

B

C

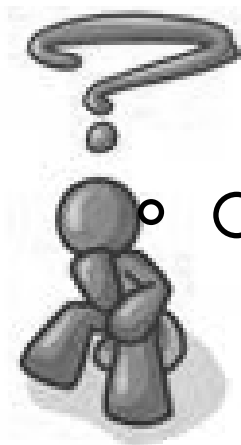
D



Aufgabe 3

Welche Tendenzen finden Sie in der Statistik?

Faktor	Erklärung
Einkommen	<i>Je größer das Einkommen ist, desto zufriedener sind die Menschen.</i>



Zwischen Japan und Deutschland gibt es in der Grafik keinen großen Unterschied. Aber wo leben die Menschen besser?

Aufgabe 4

Was muss man für die Antwort auf diese Frage wissen?

- ✓ *Wo werden die Menschen älter?* ✓ ...
- ✓ ... ✓ ...
- ✓ ... ✓ ...



Aufgabe 5

Warum ist die Information wichtig? Und was sagen die Daten?

Frage	Warum ist diese Information wichtig?	Was sagen die Daten?
<i>Wo werden die Menschen älter?</i>	<i>Man weiß, ...</i>	<i>Lebenserwartung 2009: Japan 82,9 Jahre, Deutschland 79,9 Jahre</i>



Aufgabe 6

Wählen Sie eine Frage. Suchen Sie die passenden Informationen. Machen Sie eine kleine Präsentation.



Wie machen Sie die Präsentation? Planen Sie!

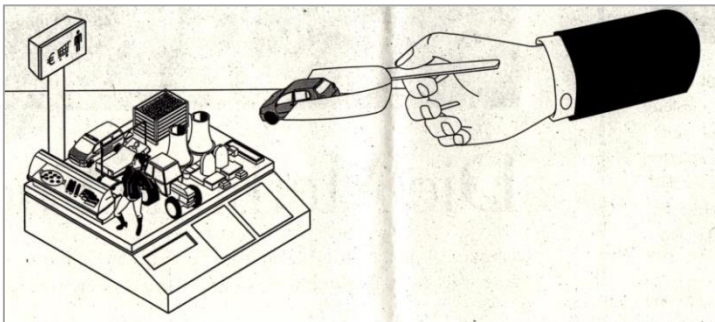
- | | | |
|---------------|----------------------|------------------------------|
| 1. Zuerst ... | <i>fragen</i> | |
| 2. ... | | <i>zeigen</i> |
| 3. ... | <i>sprechen über</i> | |
| 4. ... | <i>nicht zeigen</i> | <i>nachdenken
lassen</i> |
| 5. ... | | <i>aufrufen</i> |
| 6. ... | <i>warten</i> | |
| | | ... |



Aufgabe 7

Viele denken, das BIP (Bruttoinlandsprodukt 国内総生産) zeigt den Wohlstand eines Landes. Ist das BIP ein gutes Maß (標準)?

Argumente pro	Argumente contra
<p><i>Das BIP zeigt ...</i></p> <p><i>Wenn man das BIP sieht, versteht man ...</i></p> <p><i>Das BIP sagt viel über ...</i></p>	<p><i>Das BIP zeigt nicht ...</i></p> <p><i>Wenn man nur das BIP sieht, versteht man nicht ...</i></p> <p><i>Das BIP sagt nichts über ...</i></p>



Bruttoinlandsprodukt (BIP)

Das BIP zeigt den Wert aller Produkte und Dienstleistungen, die in einem Jahr erzeugt wurden.

Liste der Länder nach Bruttoinlandsprodukt pro Kopf^[2]

Rang	Land	BIP pro Kopf US-Dollar (2011)
1	Luxemburg ^[4]	113.533
2	Katar	98.329
3	Norwegen	97.255
4	Schweiz	81.161
5	Vereinigte Arabische Emirate	67.008
6	Australien	65.477
7	Dänemark	59.928
8	Schweden	56.956
9	Kanada	50.436
10	Niederlande	50.355
11	Österreich	49.809
12	Finnland	49.350
13	Singapur	49.271
14	Vereinigte Staaten	48.387
15	Kuwait	47.982
16	Irland ^[5]	47.513
17	Belgien	46.878
18	Japan	45.920
19	Frankreich ^b	44.008
20	Deutschland	43.742

Wikipedia






Bild 1

Text:

Tabelle:

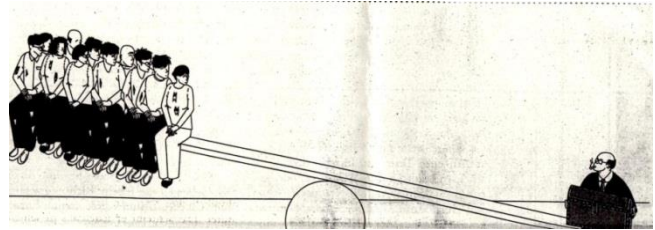


Bild 2

Text:

Tabelle:



Bild 3

Text:

Tabelle:



Bild 4

Text:

Tabelle:

Text 1: Ökologischer Fußabdruck

Dieses Maß zeigt, wie viel Agrarland man braucht, um die Ressourcen (Essen, Energie etc.) für jeden Bewohner eines Landes zu bekommen. Auch der Müll von jedem Bewohner wird verrechnet.

Text 2: Gini-Koeffizient

Dieses Maß zeigt, wie der Reichtum in einem Land verteilt ist. Es ist eine Zahl zwischen 0 und 1. Null bedeutet, dass alle Menschen in einem Land gleich viel haben. Eins bedeutet, dass eine Person alles besitzt.

Text 3: Glücks-Index (Happy Planet Index, HPI)

Dieses Maß kombiniert die Lebenserwartung, die Lebenszufriedenheit der Menschen und den ökologischen Fußabdruck.

Text 4: Index der menschlichen Entwicklung (Human-Development-Index, HDI)

Dieses Maß wird von den Vereinten Nationen (UNO) benutzt. Es ist eine Kombination aus BIP, Lebenserwartung und Qualität des Bildungssystems (Schuljahre).



Tabelle 1		
	Land	Wert 2012
1	Costa Rica	64.0
2	Vietnam	60.4
3	Kolumbien	59.8
4	Belize	59.3
5	El Salvador	58.9
6	Jamaika	58.5
7	Panama	57.8
8	Nicaragua	57.1
9	Venezuela	56.9
10	Guatemala	56.9
...		
45	Japan	47.5
46	Deutschland	47.2
47	Syrien	47.1
48	Österreich	47.1

Tabelle 2		
	Land	Werte 2000-2007
1	Dänemark	0,24
2	Japan	0,24
3	Schweden	0,25
4	Belgien	0,25
5	Tschechien	0,25
6	Norwegen	0,25
7	Slowakei	0,25
8	Bosnien	0,26
9	Usbekistan	0,26
10	Finnland	0,26
11	Ungarn	0,26
12	Mazedonien	0,28
13	Albanien	0,28
14	Deutschland	0,28

Tabelle 3	
Land	Wert 2012
Brasilien	2,9
Kanada	6,4
USA	7,2
China	2,1
Indien	0,9
Israel	4,0
Japan	4,2
Katar	11,7
Belgien	7,1
Dänemark	8,3
Deutschland	4,6
Finnland	6,2
Frankreich	4,9

Tabelle 4		
	Land	Wert 2011
1	Norwegen	0,943
2	Australien	0,929
3	Niederlande	0,910
4	USA	0,910
5	Neuseeland	0,908
6	Kanada	0,908
7	Irland	0,908
8	Liechtenstein	0,905
9	Deutschland	0,905
10	Schweden	0,904
12	Schweiz	0,903
13	Japan	0,901
14	Hongkong	0,898



Aufgabe 8

In was für einer Gesellschaft wollen wir leben?

Wir sehen eine Werbung (報告 CM) der Organisation „Die Gesellschafter“ (NPO/ NGO). Das Ziel (目標) von „Die Gesellschafter“ ist eine bessere Gesellschaft durch mehr politische Aktivität aller Menschen.

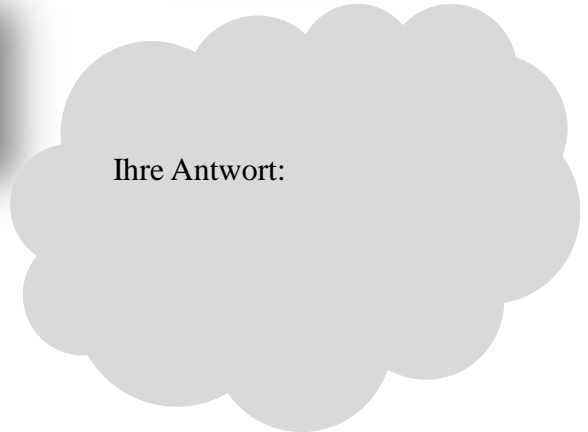



Text im Video	Welche Bilder passen? Was sieht man?	Bilder im Video
“Ein neuer Tag, ein neues Leben ...“	<i>Man sieht eine Uhr. Man sieht, wie ...</i>	
Wer sind wir?		<ul style="list-style-type: none"> ✓ <i>Willy Brandt (Bundeskanzler 1969 – 1974) entschuldigt sich in Polen für den 2. Weltkrieg</i> ✓ <i>ein Kind</i> ✓ <i>eine Gruppe junger Leute</i>
Woran glauben wir?		
Was verbindet uns?		
Was trennt uns?		
Was fasziniert uns aneinander?		



Aufgabe 9

Sehen Sie das Video und ergänzen Sie:

Ich möchte in einer Gesellschaft leben, die ...



Aufgabe 10

Was ist für Sie eine gute Gesellschaft? Machen Sie eine Collage.



Klee
2 Fragen

Ein neuer Tag
Ein neues Leben
Ein neues Spiel
Mit neuen Regeln
Ich sehe dich an
Und kenne dich nicht
Du siehst mich an
Und kennst mich nicht

Und wenn ich dich zwei Fragen fragen
würde,
wäre das: Woran glaubst du?
Und wofür lebst du?
Und wenn du mich zwei Fragen fragen
würdest ,
wäre das: Woran denkst du?
Und wohin gehst du?

Ein klarer Blick
in dein Gesicht
Ein wahres Wort
Vergissmeinnicht

